

全真模拟训练卷 **重 点 学 校 卷** (二)

题号	一	二	三	四	五	六	七	八	总分
得分									

## 一、填一填。(19分)

- 54 里面有( 5 )个十和( 4 )个一,4 个一和 6 个十合起来是( 64 )。(答案不唯一)
- 一个数比 58 大,比 67 小,它的个位上是 3,这个数是( 63 )。
- 按从小到大的顺序写出三个个位上是 6 的两位数:( 16 ), ( 26 ), ( 36 )。
- 五个五个地数,85 前面的数是( 80 ),后面的数是( 90 )。
- 里最小填几?










65 < 6

75 <  4

5  > 54

4 > 72

- 按规律接着往下画。

(1)       (  ) (  ) (  )(2)        (  ) (  ) (  )

- 80 连续减 7 分别是( 73 ), ( 66 ), ( 59 ), ( 52 )。
- 用 2, 6, 8 其中两个数字组成的最大两位数与最小两位数相差( 60 )。
- 在空格里写上合适的数。

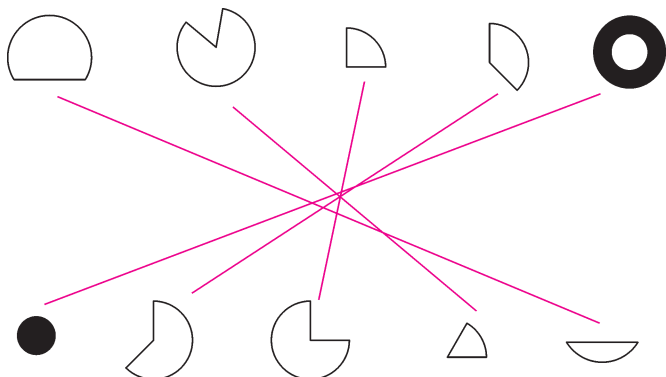
22	24	26	28	30
----	----	----	----	----

70	65	60	55	50
----	----	----	----	----

48	49	50	51	52	53	54	55	56	57	58	59	60
----	----	----	----	----	----	----	----	----	----	----	----	----

## 二、连一连。(9 分)

1. 把能拼成一个完整的圆的图形用线连起来。(5 分)



2. 他们看到的房子是什么样子的?(4 分)



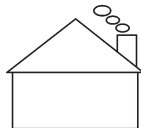
小丽



小明



小丽



小明

## 三、算一算。(共 22 分)

1. 直接写出得数。(10 分)

$69-9=60$

$6+50=56$

$9+30=39$

$46-21=25$

$31+8=39$

$36-3=33$

$4+75=79$

$5+23=28$

$68-40=28$

$96-30=66$

$80-20=60$

$85-40=45$

$78-8=70$

$90-1=89$

$27-20=7$

$49+1=50$

$30+53=83$

$27+20=47$

$65-50=15$

$96-16=80$

2. 用竖式计算。(12 分)

$34+7=41$

$72-8=64$

$96-43=53$

$$\begin{array}{r} 34 \\ + 7 \\ \hline 41 \end{array}$$

$$\begin{array}{r} 72 \\ - 8 \\ \hline 64 \end{array}$$

$$\begin{array}{r} 96 \\ - 43 \\ \hline 53 \end{array}$$

$$57+38=95$$

$$\begin{array}{r} 57 \\ + 38 \\ \hline 95 \end{array}$$

$$100-59=41$$

$$\begin{array}{r} 100 \\ - 59 \\ \hline 41 \end{array}$$

$$57+43=100$$

$$\begin{array}{r} 57 \\ + 43 \\ \hline 100 \end{array}$$

四、在 ○ 里填上“>”“<”或“=”。(6分)

$$18-9 \bigcirc 57-48$$

$$62+30 \bigcirc 36+22$$

$$53+30 \bigcirc 20+63$$

$$5+33 \bigcirc 40+12$$

$$76-5 \bigcirc 87-25$$

$$97-19 \bigcirc 76+15$$

五、在 □ 里填上合适的数。(6分)

$$47+36=25+\boxed{58}$$

$$59+\boxed{5}=64$$

$$85-\boxed{41}=38+6$$

$$71-\boxed{37}=34$$

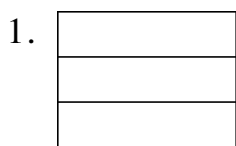
$$81-19=15+\boxed{47}$$

$$76-9=\boxed{38}+29$$

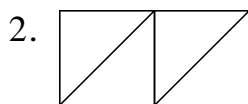
六、找规律,接着画。(4分)



七、数一数。(6分)



( 6 )个长方形。



( 4 )个三角形,

( 2 )个正方形。

八、解决问题。(28分)

1. 一本书有 65 页,小月看了 26 页,还剩多少页没有看?(4分)

【答案】 $65-26=39$ (页)

口答:还剩 39 页没有看。

2. 下课了,一(3)班有 26 名学生到室外参加体育锻炼,其余的 18 名学生在教室里看书。一(3)班一共有多少名学生?(4 分)

【答案】 $26+18=44$ (名)

口答:一(3)班一共有 44 名学生。

3. 下面是小军班上订报刊的统计表。

《儿童报》	《小画报》
38 份	20 份

《小画报》和《儿童报》一共订了多少份?(4 分)

【答案】 $20+38=58$ (份)

口答:《小画报》和《儿童报》一共订了 58 份。

4.  有 37 条, 比  多 13 条,两种鱼共有多少条?

(4 分)

【答案】 $37+13=50$ (条)

$37+50=87$ (条)

口答:两种鱼共有 87 条。

5. 玩老鹰捉小鸡的小朋友一共有 35 人。(4 分)

我已经捉到了 18 人,还有多少人  
(含“鸡妈妈”)没捉到?



【答案】 $35-18=17$ (人)

口答:还有 17 人(含“鸡妈妈”)没捉到。

6. (创新题)哥哥和弟弟一共有 60 本故事书,如果哥哥给弟弟 6 本,那么他们的故事书就同样多。哥哥和弟弟原来各有多少本故事书?(8 分)

【答案】 $30+30=60$ (本)  $30-6=24$ (本)

$30+6=36$ (本)

口答:哥哥原来有 36 本,弟弟原来有 24 本。